

IX CONCURSO DE PROBLEMAS

Nivel: 1º y 2º de E.S.O.

Problema nº 7

Semana del 21 al 25 de marzo de 2022

Alumno: _____ Curso: _____















ENUNCIADO DEL PROBLEMA:

NOS VAMOS DE CAMPING.

Nos vamos de camping 14 amigos, cada uno quiere que su tienda de campaña esté bajo la sombra de un árbol. Tienes un nuevo reto, debes colocar en horizontal o en vertical y junto a cada árbol una tienda de campaña. Las tiendas de campaña no pueden tocarse, ni siquiera en diagonal. Las cifras que aparecen al margen indican cuántas tiendas de campaña se encuentra en la fila y en la columna. Suerte!!!!

RESOLUCIÓN DEL PROBLEMA:

Siempre hay que razonar la respuesta

	3	1	2	1	2	2	2	1
1								
3								
1								
3								
0								
3								
1								
2							