

IV CONCURSO DE PROBLEMAS

Nivel: 3º y 4º de E.S.O. y 1º y 2º de F.P.B.

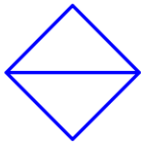
Problema nº 1

Semana del 30 de enero al 3 de febrero de 2017.

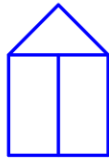
Alumno: _____ Curso: _____

ENUNCIADO DEL PROBLEMA:

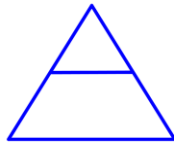
¿Cuál es el valor que se colocará bajo el último dibujo?



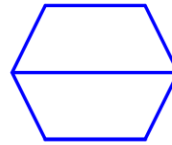
6



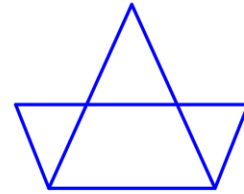
11



7



8



?

RESOLUCIÓN DEL PROBLEMA:

Siempre hay que razonar la respuesta